



Warum kann die Tulpe so frühzeitig (März/April) blühen?



1. Trage zuerst die richtigen Sätze in die unteren vier Kästchen ein!
2. Welches Merkmal (s, g, z;) ist typisch für diesen Teil der Blume? Trage es in die Kreise ein!
3. Schneide dann die Fotos und die Kästchen aus und ordne die Texte den Bildern zu!

In der Zwiebel, dem Speicherorgan, befinden sich Wasser und Nährstoffe und ein spezielles Frostschutzmittel.

Die 6 Blütenblätter + 6 Staubbeutel sind in vielen Farben; hat eine dreilappige Narbe.

Sie wächst in Europa, Nordafrika und Asien wild und in Gärten.

Die Blätter sind fest, breit und spitz.

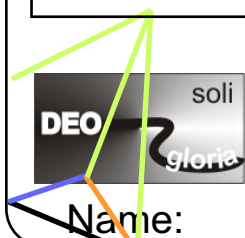
Der Stängel ist rund mit winzigen Härchen.

Blüte:

Blatt und Stängel:

Standort:

Warum kann die Tulpe trotz Frost und Kälte wachsen und blühen?



1. Welche Merkmale erkennst du bei der Blüte, beim Blatt (Stängel), und dem Standort der Tulpe? 2. Trage die Abkürzung oben in die Kreise ein!

- schön (=s)
- geordnet (=g)
- sinnvoll (zweckmäßig) (=z)
- Vielfalt (v)

Name: _____ Nom: _____ El nombre: _____