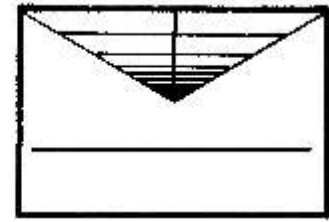



Name: \_\_\_\_\_

Datum: \_\_\_\_\_

Steck



Brief

s-g



### Blüte:

Die Tulpe hat 6 Blütenblätter, 6 Staubbeutel und einen dicken Griffel in der Mitte.


z



### Blätter:

Die dunkelgrünen Blätter sind fest, breit und spitz und sind halb zusammengerollt. So können sie den harten Boden leichter durchstoßen.

z



### Stängel:

Der grüne Stängel ist fest, rund und gegen die Kälte mit winzigen Härchen besetzt.

z-g



### Speicherorgan, Wurzel:

In der Zwiebel, dem Speicherorgan der Tulpe befinden sich Wasser und Nährstoffe. Die Tulpe vermehrt sich auch durch Brutzwiebeln(weiß).

Trage in die Kreise ein, welches Merkmal für diesen Teil der Pflanze überwiegt:  
s = schön oder g = geordnet oder z = zweckmäßig, sinnvoll