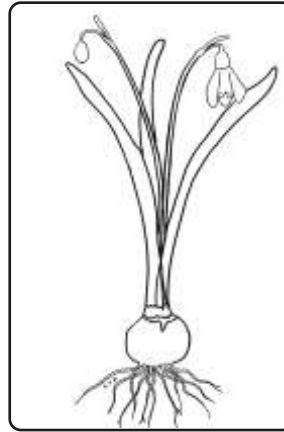


Name des Frühblüher: _____



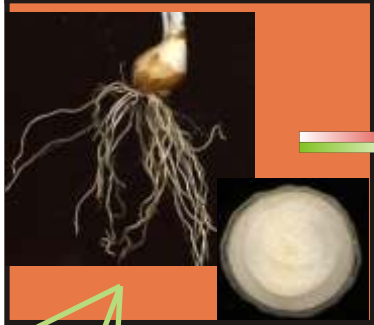
Steckbrief

Galanthus nivalis
Snowdrop









Trage in die Kreise ein, welches Merkmal für diesen Teil der Pflanze überwiegt:
s = schön oder g = geordnet oder z = zweckmäßig, sinnvoll

Blütenformel: Radialsymmetrie $BB_{3+3} + SB_{3+3}$ (BB=Blütenblätter, SB=Staubbeutel)



Name: _____ Datum: _____ Klasse: _____ Fach: _____