


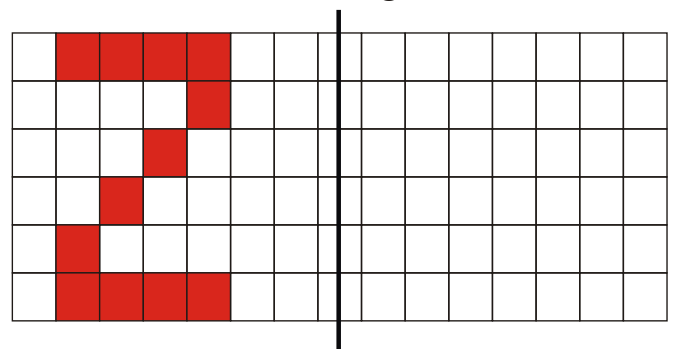
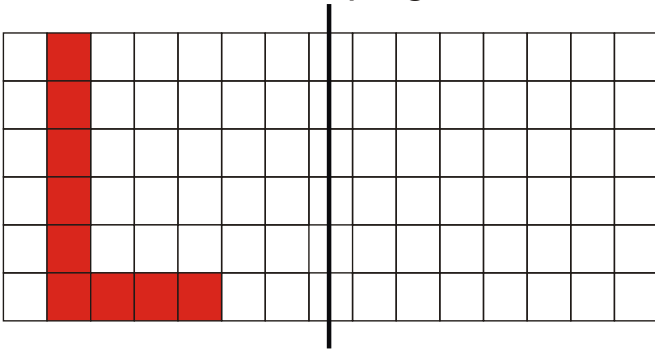
Name: \_\_\_\_\_ Datum: \_\_\_\_\_ Klasse: \_\_\_\_ Punkte: \_\_\_\_ (von 10)

1. Andi hat mit Würfeln einen Turm gebaut.  
Wie viele hat er verwendet? 2 Punkte

\_\_\_\_\_



2. Zeichne die Spiegelbilder der beiden Buchstaben farbig ein! 2 Punkte



3. Zeichne vier Buchstaben ein, die eine Symmetrieachse haben!  
Markiere die Faltachse (=Symmetrieachse) mit Lineal rot! 4 Punkte

Genügt es denn nicht,  
wenn wir uns in der  
Pfütze spiegeln?



4. Spiegle die Buchstaben an der Linie! 2 Punkte

