




## Knobelaufgabe aus der Mathematik (Geometrie)

Durch zwei gerade Striche (benütze dein Lineal!) lässt sich ein Quadrat in genau 1 Dreieck und zwei Vierecke zerlegen.

Zum Probieren:



meine Lösung:



Lösungen:

