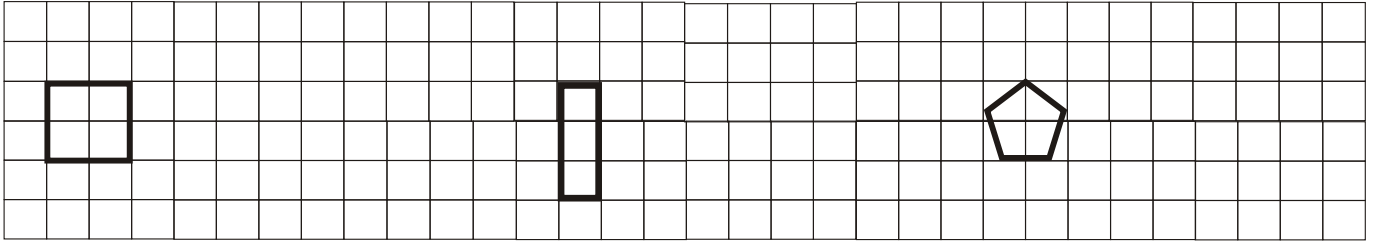


# 4. Probe aus der Mathematik (4.Kl.)




Name: \_\_\_\_\_ P \_\_\_\_ N \_\_\_\_ Unterschrift: \_\_\_\_\_

1. Verdopple die geometrischen Figuren!



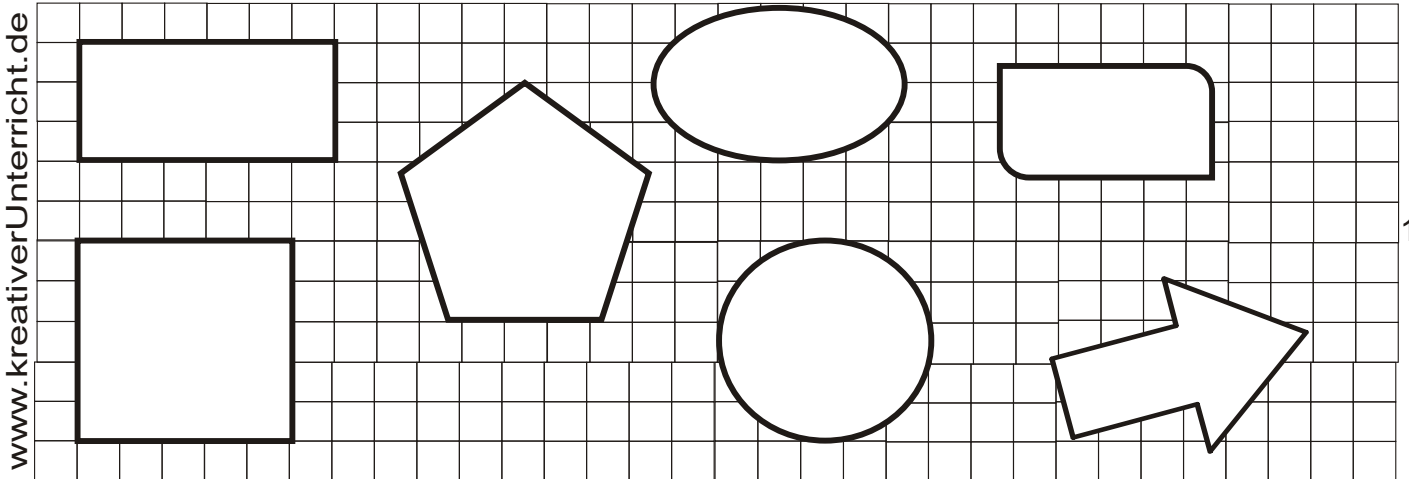
6P

2. Stelle als Schaubild dar: 850g Brot, 500g Müsli, 350g Wurst, 250g Butter, 1000g Zucker!  
Vergiss die Beschriftung nicht!



10P

3. Zeichne alle vorhandenen Symmetrieachsen ein!



www.kreativerUnterricht.de

14P

4. Familie Huber hat zwei Kinder, Luisa und Peter. Peter ist doppelt so alt wie Luisa, aber nur halb so alt wie Vater. Die Mutter ist fünf Jahre jünger als der Vater. Zusammen sind sie 105 Jahre alt. Peter feiert gerade seinen zwanzigsten Geburtstag. Wie alt sind die Familienmitglieder?

6P

36P

|        |  |   |  |   |  |   |  |   |  |   |  |   |
|--------|--|---|--|---|--|---|--|---|--|---|--|---|
| Note   |  | 1 |  | 2 |  | 3 |  | 4 |  | 5 |  | 6 |
| so oft |  |   |  |   |  |   |  |   |  |   |  |   |

Notendurchschnitt: \_\_\_\_\_

Diagnose aus der Probe \_\_\_\_\_

Therapie: \_\_\_\_\_