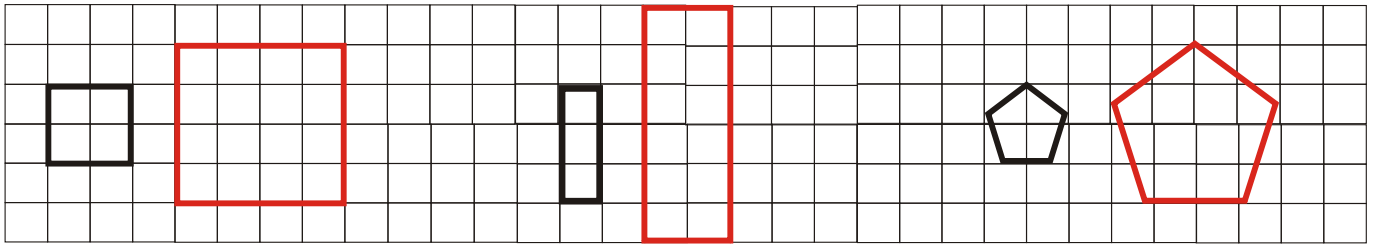


4. Probe aus der Mathematik (4.Kl.)

Name: _____ P ____ N _____ Unterschrift: _____

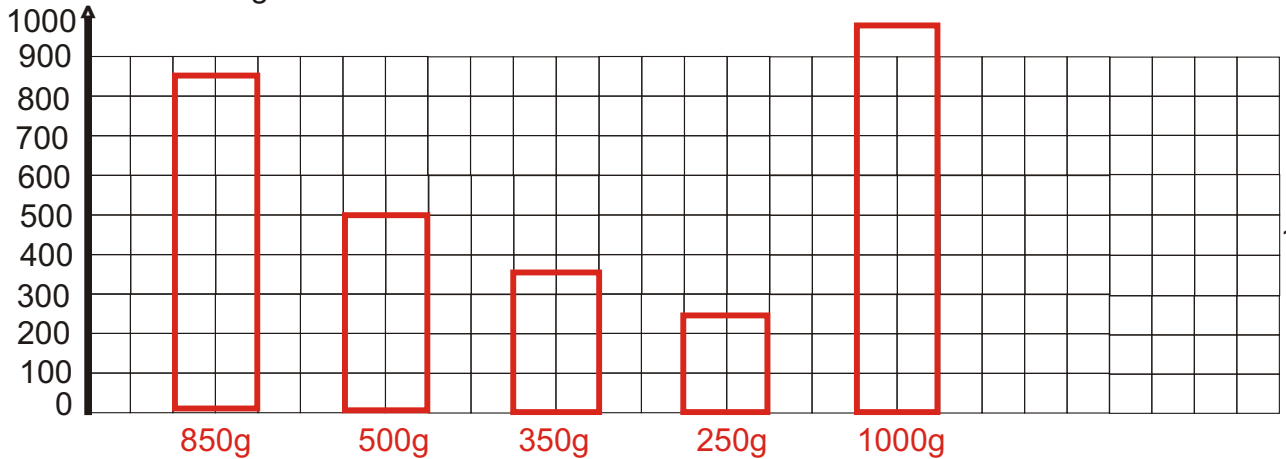
1. Verdopple die geometrischen Figuren!



6P

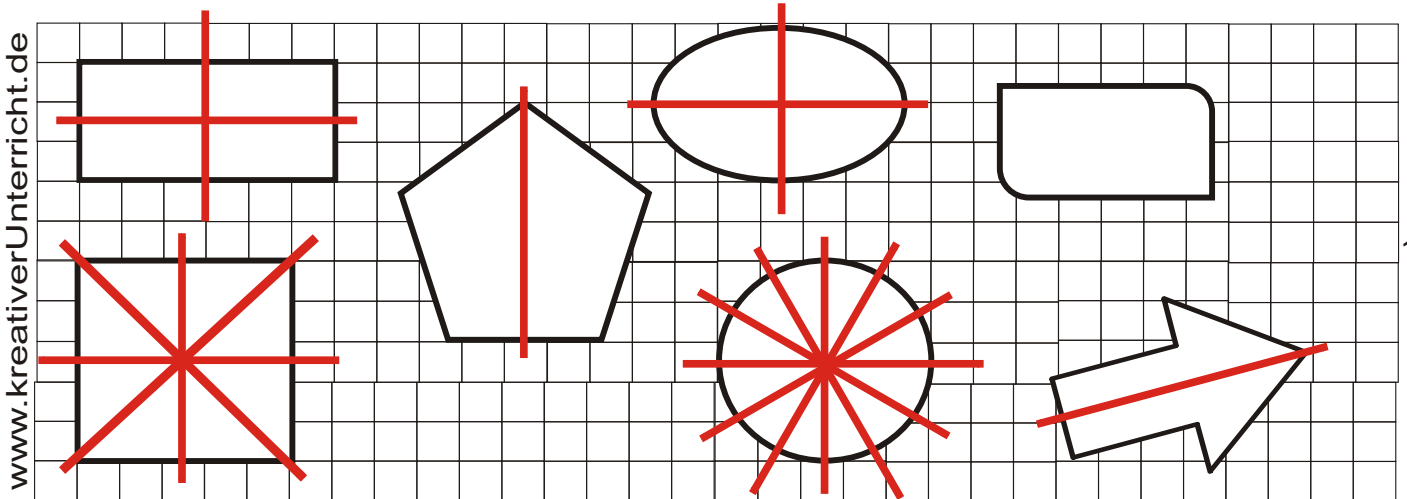
2. Stelle als Schaubild dar: 850g Brot, 500g Müsli, 350g Wurst, 250g Butter, 1000g Zucker!

Vergiss die Beschriftung nicht!



10P

3. Zeichne alle vorhandenen Symmetrieachsen ein!



www.kreativerUnterricht.de

14P

4. Familie Huber hat zwei Kinder, Luisa und Peter. Peter ist doppelt so alt wie Luisa, aber nur halb so alt wie Vater. Die Mutter ist fünf Jahre jünger als der Vater. Zusammen sind sie 105 Jahre alt. Peter feiert gerade seinen zwanzigsten Geburtstag. Wie alt sind die Familienmitglieder?

6P

Wenn Peter 20 Jahre alt ist, dann ist Luisa 10 und Vater 40 und Mutter 35 Jahre alt.

Note		1		2		3		4		5		6
so oft												

Notendurchschnitt: _____

Diagnose aus der Probe _____

Therapie: _____

36P